

**الجزء الأول: (12 نقطة)**

**التمرين الأول: (03 نقاط)**

(1) احسب القاسم المشترك الأكبر للعددين 696 و 406 مع كتابة مراحل الحساب.

(2) اكتب  $\frac{696}{406}$  على شكل كسر غير قابل للاختزال.

(3) احسب العدد  $P$  حيث  $P = \frac{696}{406} - \frac{3}{7} \times \frac{5}{2}$

**التمرين الثاني: (03,5 نقطة)**

تعطى العبارة:  $F = (2x - 3)^2 - 16$

(1) تحقق بالنشر أن:  $F = 4x^2 - 12x - 7$

(2) حلل  $F$  إلى جداء عاملين من الدرجة الأولى.

(3) حل المعادلة:  $(2x - 7)(2x + 1) = 0$

(4) احسب  $F$  من أجل  $x = 1 + \sqrt{2}$  واكتب النتيجة على الشكل  $a + b\sqrt{2}$  حيث  $a$  و  $b$  عدنان نسيان.

**التمرين الثالث: (03 نقاط)**

في الشكل المقابل الأطوال وأقياس الزوايا غير حقيقية.

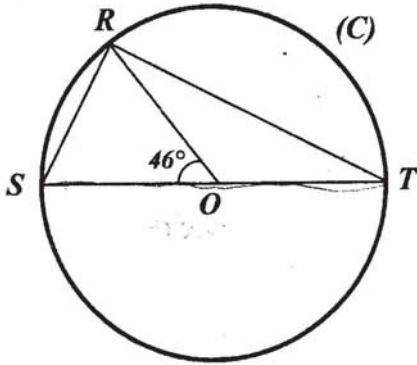
(C) دائرة مركزها  $O$  وقطرها  $ST = 9 \text{ cm}$

$R$  نقطة من هذه الدائرة حيث  $\widehat{SOR} = 46^\circ$

(1) بين أن:  $\widehat{STR} = 23^\circ$

(2) المثلث  $SRT$  قائم في  $R$ ، علّل.

(3) احسب الطول  $RS$  بالتدوير إلى  $0,01$ .



**التمرين الرابع: (02,5 نقطة)**

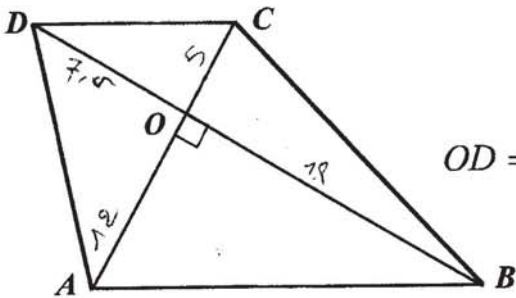
الشكل المقابل مرسوم بأطوال غير حقيقية.

$ABCD$  رباعي قطراه متعامدان ومتقاطعان في  $O$  حيث:

$OD = 7,5 \text{ cm}$  ،  $OC = 5 \text{ cm}$  ،  $OB = 18 \text{ cm}$  ،  $OA = 12 \text{ cm}$

(1) برهن أن المستقيمين  $(AB)$  و  $(CD)$  متوازيان.

(2) احسب الطول  $AB$ .



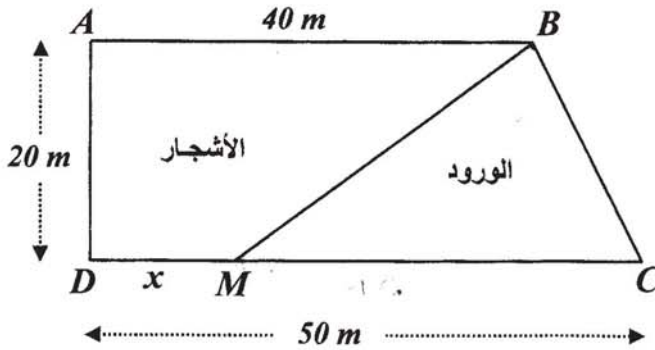
الجزء الثاني: (08 نقاط)

المسألة:

(I) لِعَمِّي أحمد قطعة أرض مستطيلة الشكل مساحتها  $1000m^2$ ، عرضها خمسي  $\left(\frac{2}{5}\right)$  طولها.

- أوجد بُعدي هذه القطعة.

(II) تنازل عَمِّي أحمد لأخيه عن جزء من هذه القطعة مساحته  $100m^2$  وخصّص الجزء الباقي منها لاستغلاله مشتلًا للورود والأشجار. لهذا الغرض قسّم هذا الجزء عشوائيًا إلى قطعتين كما هو موضح في الشكل:



نضع:  $DM = x$  (  $M$  نقطة من  $[DC]$  مع  $0 \leq x \leq 50$  ).

لتكن  $f(x)$  مساحة المثلث  $BCM$  و  $g(x)$  مساحة القطعة  $ABMD$ .

(1) أ- عبّر عن  $f(x)$  و  $g(x)$  بدلالة  $x$ .

ب- ساعد عَمِّي أحمد لإيجاد الطول  $DM$  حتى تكون لقطعتي الأرض نفس المساحة.

(2) أ- في المستوي المنسوب إلى معلم متعامد ومتجانس  $(O; \vec{i}, \vec{j})$

- مثل بيانياً الدالتين:  $f(x) = 500 - 10x$  ،  $g(x) = 10x + 400$

نأخذ: 1 cm على محور الفواصل يمثل 2 m

1 cm على محور الترتيب يمثل  $50 m^2$

ب- فسّر بيانياً مساعدتك السابقة لِعَمِّي أحمد، مع تحديد قيمة المساحة في هذه الحالة.

الإجابة النموذجية لموضوع امتحان: شهادة التعليم المتوسط دورة: جوان 2015

اختبار مادة: الرياضيات المدة: ساعتان

العلامة		عناصر الإجابة	الرقم
مج	مجزأة		
03	01	(1) حساب القاسم المشترك الأكبر للعددين 696 و 406 و كتابة مراحل الحساب: $696 = 406 \times 1 + 290$ $406 = 290 \times 1 + 116$ $290 = 116 \times 2 + 58$ $116 = 58 \times 2 + 0$	التمرين الأول
	0,50	العدد 58 هو القاسم المشترك الأكبر للعددين 696 و 406	
	0,50	(2) كتابة $\frac{696}{406}$ على شكل كسر غير قابل للاختزال: $\frac{696}{406} = \frac{696:58}{406:58} = \frac{12}{7}$	
	0,25	(3) حساب العدد $P$ حيث $P = \frac{696}{406} - \frac{3}{7} \times \frac{5}{2}$	
	0,50	$P = \frac{12}{7} - \frac{3}{7} \times \frac{5}{2}$	
	0,25	$P = \frac{24}{14} - \frac{15}{14}$ $P = \frac{9}{14}$	
03,5	0,50	(1) التحقق بالنشر أن: $F = 4x^2 - 12x - 7$ $F = (2x - 3)^2 - 16$ $= [(2x)^2 + 3^2 - 2 \times 2x \times 3] - 16$ $= 4x^2 + 9 - 12x - 16$ $= 4x^2 - 12x - 7$	التمرين الثاني
	0,25	(2) تحليل $F$ إلى جداء عاملين من الدرجة الأولى: $F = (2x - 3)^2 - 16$ $= (2x - 3)^2 - 4^2$ $= [(2x - 3) + 4] \times [(2x - 3) - 4]$ $= (2x + 1)(2x - 7)$	
	0,25	(3) حل المعادلة $(2x - 7)(2x + 1) = 0$ $2x - 7 = 0$ أو $2x + 1 = 0$ معناه $(2x - 7)(2x + 1) = 0$ و منه: $x = \frac{7}{2}$ أو $x = -\frac{1}{2}$ وبالتالي للمعادلة حلان هما $\frac{7}{2}$ و $-\frac{1}{2}$	
	0,50	(4) حساب $F$ من أجل $x = 1 + \sqrt{2}$ و كتابة النتيجة على الشكل $a + b\sqrt{2}$ $F = 4(1 + \sqrt{2})^2 - 12(1 + \sqrt{2}) - 7$ $= 4(1 + 2 + 2\sqrt{2}) - 12 - 12\sqrt{2} - 7$ $= 4(3 + 2\sqrt{2}) - 12 - 12\sqrt{2} - 7$ $= 12 + 8\sqrt{2} - 12 - 12\sqrt{2} - 7$ $= -4\sqrt{2} - 7$	
	0,50		
	0,25		
	0,25		
	0,25		

		التمرين الثالث
03	0,50	(1) إثبات أن $\widehat{STR} = 23^\circ$ : في الدائرة (C) لدينا $\widehat{SOR}$ زاوية مركزية و $\widehat{STR}$ زاوية محيطية تحصران نفس القوس $\widehat{SR}$ و منه $\widehat{STR} = \frac{1}{2}\widehat{SOR}$
	0,50	بالتعويض نجد: $\widehat{STR} = \frac{1}{2} \times 46^\circ$ إذن: $\widehat{STR} = 23^\circ$
	0,25	(2) تعليل أن المثلث $SRT$ قائم في $R$ : بما أن الدائرة (C) تحيط بالمثلث $SRT$ و ضلعه $[ST]$ قطر لها فإن $SRT$ قائم في $R$ ( حسب الخاصية العكسية للدائرة المحيطة بمثلث قائم).
	0,50	(3) حساب الطول $RS$ بالتدوير إلى $0,01$ : في المثلث $SRT$ القائم في $R$ لدينا: $\sin \widehat{T} = \frac{RS}{ST}$
	0,50	و منه: $RS = ST \times \sin \widehat{T}$ بالتعويض نجد: $RS = 9 \times \sin 23^\circ$ أي $RS \approx 3,516 \text{ cm}$
	0,25	إذن: مدور $RS$ إلى $0,01$ هو $3,52 \text{ cm}$
	02,5	0,50
0,25		نستنتج أن: $\frac{OA}{OC} = \frac{OB}{OD}$
0,50		و بما أن النقط $A, O, C$ في استقامة و كذلك النقط $B, O, D$ و بنفس الترتيب إذن المستقيمان $(AB)$ و $(CD)$ متوازيان (حسب عكس مبرهنة طالس).
0,25		(2) حساب الطول $AB$ : بتطبيق مبرهنة فيثاغورس على المثلث $ABO$ القائم في $O$ نجد: $AB^2 = OA^2 + OB^2$
0,50		بالتعويض نجد: $AB^2 = 12^2 + 18^2$ ومنه: $AB^2 = 144 + 324 = 468$
0,25		إذن: $AB = \sqrt{468} = 6\sqrt{13} \text{ cm}$
0,25		

**حل المسألة: I.** إيجاد بعدي القطعة: بفرض طول القطعة هو  $x$  فإن عرضها هو  $\frac{2}{5}x$ .

وبما أن مساحتها  $1000 \text{ m}^2$  فإن:  $x \left( \frac{2}{5}x \right) = 1000$  وبالتالي:  $\frac{2}{5}x^2 = 1000$

أي:  $x^2 = 1000 \div \frac{2}{5} = 2500$  وعليه:  $x^2 = 1000 \times \frac{5}{2} = 2500$

بما أن الطول موجب فإن:  $x = \sqrt{2500} = 50$  ،  $\frac{2}{5} \times 50 = 20$

وبالتالي طول القطعة هو  $50 \text{ m}$  و عرضها  $20 \text{ m}$ .

ملاحظة: يمكن حل هذا السؤال باستعمال جملة معادلتين.



II.1.أ) التعبير عن  $f(x)$  و  $g(x)$  بدلالة  $x$ :

$$f(x) = \frac{CM \times AD}{2} = \frac{20(50 - x)}{2} = 500 - 10x$$

$$g(x) = 400 + 10x \text{ أي } g(x) = (1000 - 100) - f(x) = 900 - (500 - 10x)$$

ملاحظة: يمكن التعبير عن  $g(x)$  باستعمال قانون مساحة شبه منحرف.

ب) مساعدة عمي أحمد لإيجاد الطول  $DM$  حتى تكون لقطعتي الأرض نفس المساحة:

$$\text{لقطعتي الأرض نفس المساحة تعني: } f(x) = g(x) \text{ أي } 500 - 10x = 400 + 10x$$

$$\text{ومنه: } 500 - 400 = 10x + 10x \text{ أي } 100 = 20x \text{ ومنه: } x = 5$$

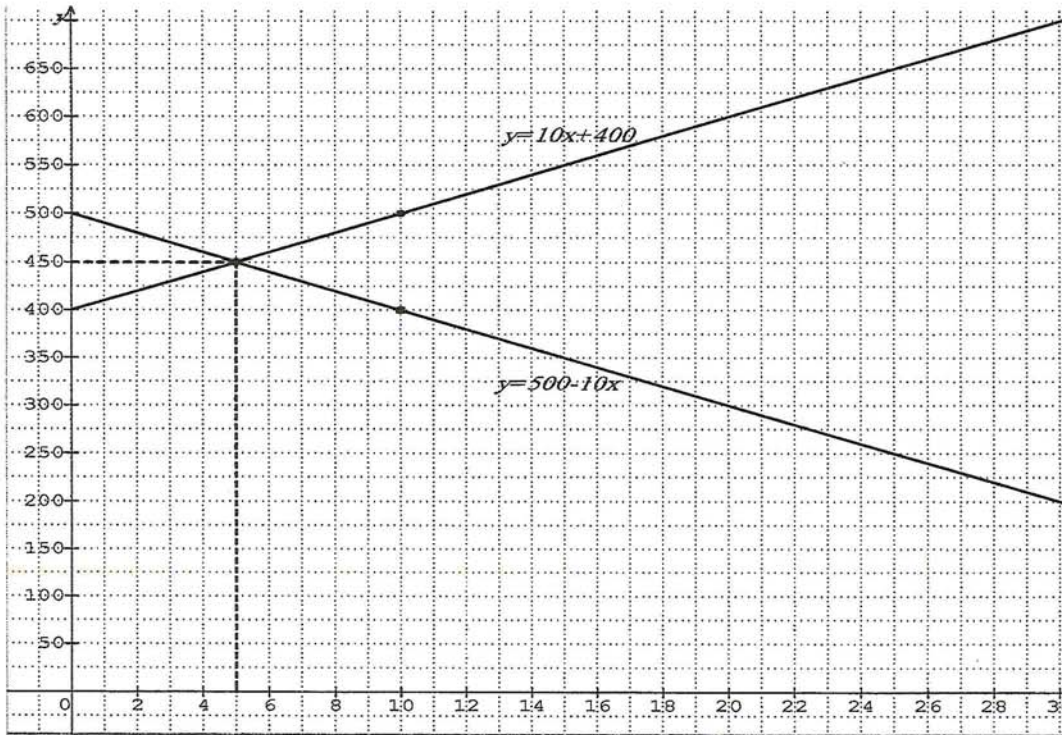
وبالتالي حتى تكون لقطعتي الأرض نفس المساحة يجب أن يكون:  $DM = 5$

2-أ) لتمثيل الدالتين:  $f(x) = -10x + 500$  ،  $g(x) = 10x + 400$  بيانياً:

x	0	10
$g(x)$	400	500

x	0	10
$f(x)$	500	400

التمثيل البياني:



ب) التفسير البياني للمساعدة السابقة لعمي أحمد مع تحديد قيمة المساحة في هذه الحالة:

يكون لقطعتي الأرض نفس المساحة من أجل فاصلة نقطة تقاطع المنحنيين وهي  $450 \text{ m}^2$

وتبلغ قيمة المساحة في هذه الحالة  $DM = 5 \text{ m}$  أي:  $x = 5$

السؤال	المعيار	المؤشرات	التنقيط	مجزأة	مج
1	1م	- التعبير عن البعدين بدلالة مجهول واحد . - كتابة المعادلة على الشكل $x^2 = b$ .	0,5 إن وفق في مؤشر 1 إن وفق في مؤشرين	1	2
	2م	- التعبير عن البعدين بشكل صحيح . - حل المعادلة صحيح .	0,5 إن وفق في مؤشر 1 إن وفق في مؤشرين	1	
2	1م	- توظيف المساحة المتبقية بعد التنازل في التعبير عن $g(x)$ - التعبير عن $f(x)$ و $g(x)$ بدلالة $x$ - كتابة المعادلة $f(x) = g(x)$ - التمثيل البياني للدالة $f$ - التمثيل البياني للدالة $g$ - ربط تساوي المساحتين بنقطة التقاطع . - تفسير فاصلة نقطة التقاطع. - تفسير ترتيب نقطة التقاطع.	0,5 إن وفق في مؤشر 1 إن وفق في مؤشرين 1,25 إن وفق في ثلاث مؤشرات 1,75 إن وفق في أربع مؤشرات 2,5 إن وفق في خمس مؤشرات فأكثر.	2,5	4,5
	2م	- التعبير عن $f(x)$ و $g(x)$ بشكل صحيح . - الحل الصحيح للمعادلة $f(x) = g(x)$ - التمثيل البياني للدالة $f$ صحيح . - التمثيل البياني للدالة $g$ صحيح. - قراءة إحداثيتي نقطة التقاطع بيانيا بشكل صحيح. - تفسير فاصلة نقطة التقاطع صحيح. - تفسير ترتيب نقطة التقاطع صحيح.	0,5 إن وفق في مؤشر 1 إن وفق في مؤشرين 1,25 إن وفق في ثلاث مؤشرات 1,5 إن وفق في أربع مؤشرات 2 إن وفق في خمس مؤشرات فأكثر.	2	
كل المسألة	3م	- التسلسل المنطقي. - معقولية النتائج. - احترام وحدات القياس .	0,5 إن وفق في مؤشر 1 إن وفق في مؤشرين فأكثر .	1	1,5
	4م	- المقرئية . - عدم التشطيب .	0,25 إن وفق في مؤشر 0,5 إن وفق في مؤشرين	0,5	

3م : انسجام النتائج.

4م : تقديم الورقة.

1م : التفسير السليم للوضعية.

2م : الاستعمال السليم للأدوات الرياضية.